



**PRAKSIS**

ΤΑΞΗ Γ' / CLASS C // الفصل ج //

ΗΛΙΚΙΑΚΗ ΟΜΑΔΑ / AGE / 9-12 / گروه سنی / الأعمار



ΜΑΘΗΜΑΤΙΚΑ / MATHEMATICS / MATHÉMATIQUES / الحساب / ریاضی

Συμπλήρωση των αριθμών του παρακάτω φύλλου εργασίας.

Fill in the numbers in the worksheet below.

Remplissez les chiffres dans la feuille de calcul ci-dessous./





أكمل الأرقام في لوحة العمل التالية

شماره هاره به ترتیب به خانه خالی های ذیل بنویسد.

Name: \_\_\_\_\_

## Caterpillar Counting

Write the numbers that are missing

	1			4			7		9	
		2				5			8	
			3							10
	1						7			

Συμπληρώστε τους αριθμούς που δείχνουν τα χεράκια και κάντε την πρόσθεση.

Fill in the numbers on the hands and complete the boxes.

Remplissez les chiffres sur les mains et remplissez les cases./


إكتب عدد الأصابع في المربعات المُقابلة لها ثم إجمعها .















خانه خالی ذیل را تکمیل نمایید با انگشتان تان که در تصویر است جمع نمایید و حاصل جمع

را بنویسید.

Name : \_\_\_\_\_ Date : \_\_\_\_\_

## Count and Add



	+		=	<input type="text" value="1"/>	+	<input type="text" value="5"/>	=	<input type="text" value="6"/>
	+		=	<input type="text"/>	+	<input type="text"/>	=	<input type="text"/>
	+		=	<input type="text"/>	+	<input type="text"/>	=	<input type="text"/>
	+		=	<input type="text"/>	+	<input type="text"/>	=	<input type="text"/>
	+		=	<input type="text"/>	+	<input type="text"/>	=	<input type="text"/>
	+		=	<input type="text"/>	+	<input type="text"/>	=	<input type="text"/>
	+		=	<input type="text"/>	+	<input type="text"/>	=	<input type="text"/>

© Piccobe 2018

Συμπληρώστε τις πράξεις.

Complete the exercise.

Terminez l'exercice.

أكمل التمرينات التالية

سوال های جمع ذیل را تکمیل نمایید.

Name: \_\_\_\_\_ Date: \_\_\_\_\_



Use the number track to help solve the addition problems.

1	2	3	4	5	6	7	8	9	10
---	---	---	---	---	---	---	---	---	----

$2 + 2 =$ _____	$6 + 2 =$ _____	$6 + 2 =$ _____
$2 + 3 =$ _____	$4 + 3 =$ _____	$3 + 3 =$ _____
$9 + 1 =$ _____	$2 + 1 =$ _____	$5 + 1 =$ _____
$2 + 5 =$ _____	$6 + 2 =$ _____	$8 + 1 =$ _____
$5 + 3 =$ _____	$10 + 0 =$ _____	$8 + 0 =$ _____
$4 + 2 =$ _____	$7 + 2 =$ _____	$5 + 2 =$ _____
$3 + 1 =$ _____	$8 + 1 =$ _____	$7 + 1 =$ _____
$8 + 1 =$ _____	$6 + 2 =$ _____	$0 + 5 =$ _____
$10 + 0 =$ _____	$3 + 5 =$ _____	$4 + 5 =$ _____
$6 + 1 =$ _____	$4 + 1 =$ _____	$5 + 1 =$ _____
$3 + 2 =$ _____	$5 + 2 =$ _____	$7 + 2 =$ _____
$2 + 7 =$ _____	$8 + 1 =$ _____	$7 + 1 =$ _____
$3 + 6 =$ _____	$2 + 6 =$ _____	$1 + 6 =$ _____

© 2014 The World We Want Foundation