











رياضى ΜΑΘΗΜΑΤΙΚΑ  
MATHEMATICS/ MATHEMATIQUES

Σχημάτισε τους αριθμούς 11-20.

Form the numbers 11-20. Forme les numéros 11-20.

قم برسم الأرقام من 11 إلى 20 اعداد را از شماره ۱-۲۰ بکشید یا شکل دهید..

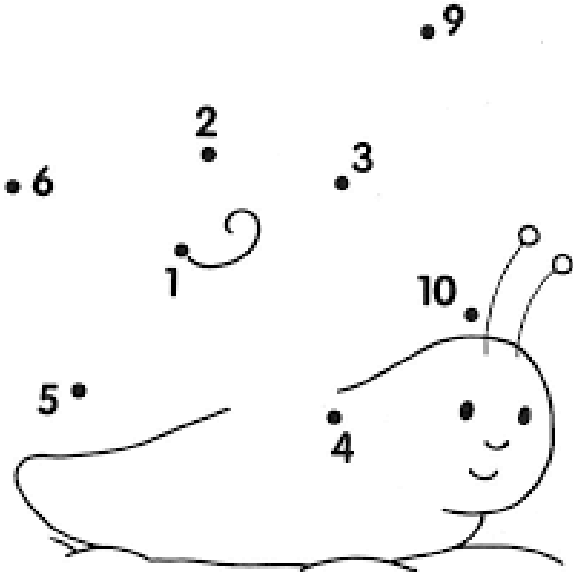
Name: \_\_\_\_\_

|  |                |
|--|----------------|
| 11    | 11 11 11 11 11 |
| 12    | 12 12 12 12 12 |
| 13    | 13 13 13 13 13 |
| 14  | 14 14 14 14 14 |
| 15  | 15 15 15 15 15 |
| 16  | 16 16 16 16 16 |
| 17  | 17 17 17 17 17 |
| 18  | 18 18 18 18 18 |
| 19  | 19 19 19 19 19 |
| 20  | 20 20 20 20 20 |

Ένωσε τις τελείες από το 1-10.

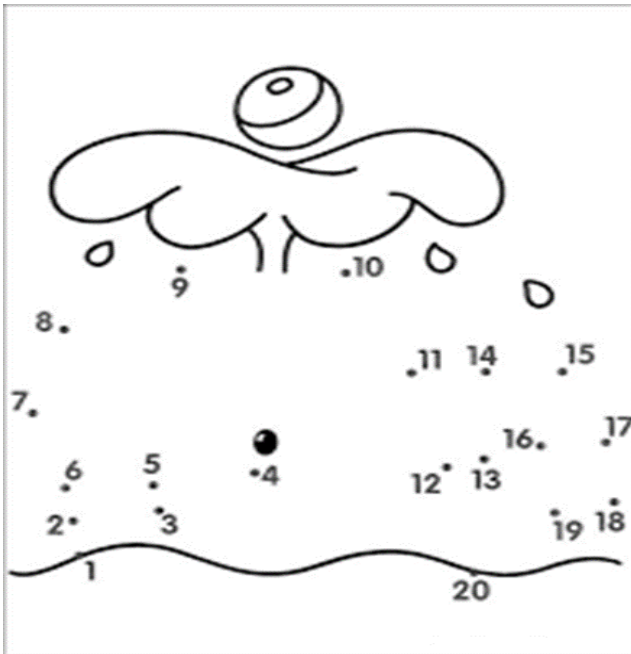
Join the dots from 1-10. Relie les points de 1 au 10.

قم بتوصيل الأرقام من 1 إلى 10. اعداد را از شماره ۱-۱۰ با هم وصل کنید.



Ένωσε τις τελείες από το 1-20. Relie les points de 1 au 20.






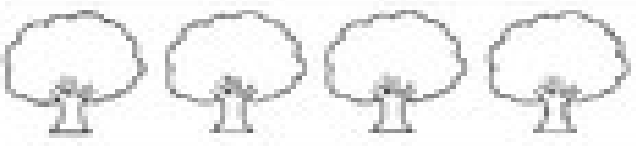

Join the dots from 1-20. اعداد را از شماره ۱-۲۰ با هم وصل کنید.



Μέτρα τα αντικείμενα και γράψε τον αριθμό στο κουτάκι.

Count the items and write the number in the box. Comptez les objets et écrivez le numéro dans le carré.

اكتب عدد الأشكال في المربع. شكل های که در هر قطار وجود دارد حساب یا شمار کنید و بعدا شماره شان را داخل خانه خالی بنویسید.

|  |                      |
|--|----------------------|
| Name _____   |                      |
| <h1>Counting To 10!</h1>   |                      |
|    | <input type="text"/> |
|    | <input type="text"/> |
|   | <input type="text"/> |
|  | <input type="text"/> |
|  | <input type="text"/> |
|   | <input type="text"/> |
|  | <input type="text"/> |

Συμπλήρωσε τα γράμματα που λείπουν.

Fill in the missing numbers. Complete les numeros qui sont absents.

إكمل الأرقام الناقصة خانة خالی های ذیل را با اضافه کردن اعداد تکمیل کنید.

Name \_\_\_\_\_

Date \_\_\_\_\_

## Missing Counting Sequences to 20

Fill in the missing numbers.



|   |    |    |   |    |
|---|----|----|---|----|
| 1 |    |    | 4 | 5  |
| 6 |    | 8  |   | 10 |
|   | 12 | 13 |   | 15 |
|   | 17 | 18 |   |    |

© This preschool worksheet is from [www.teach-nology.com](http://www.teach-nology.com)