

ΜΑΘΗΜΑΤΙΚΑ/ MATHEMATICS- الرياضيات

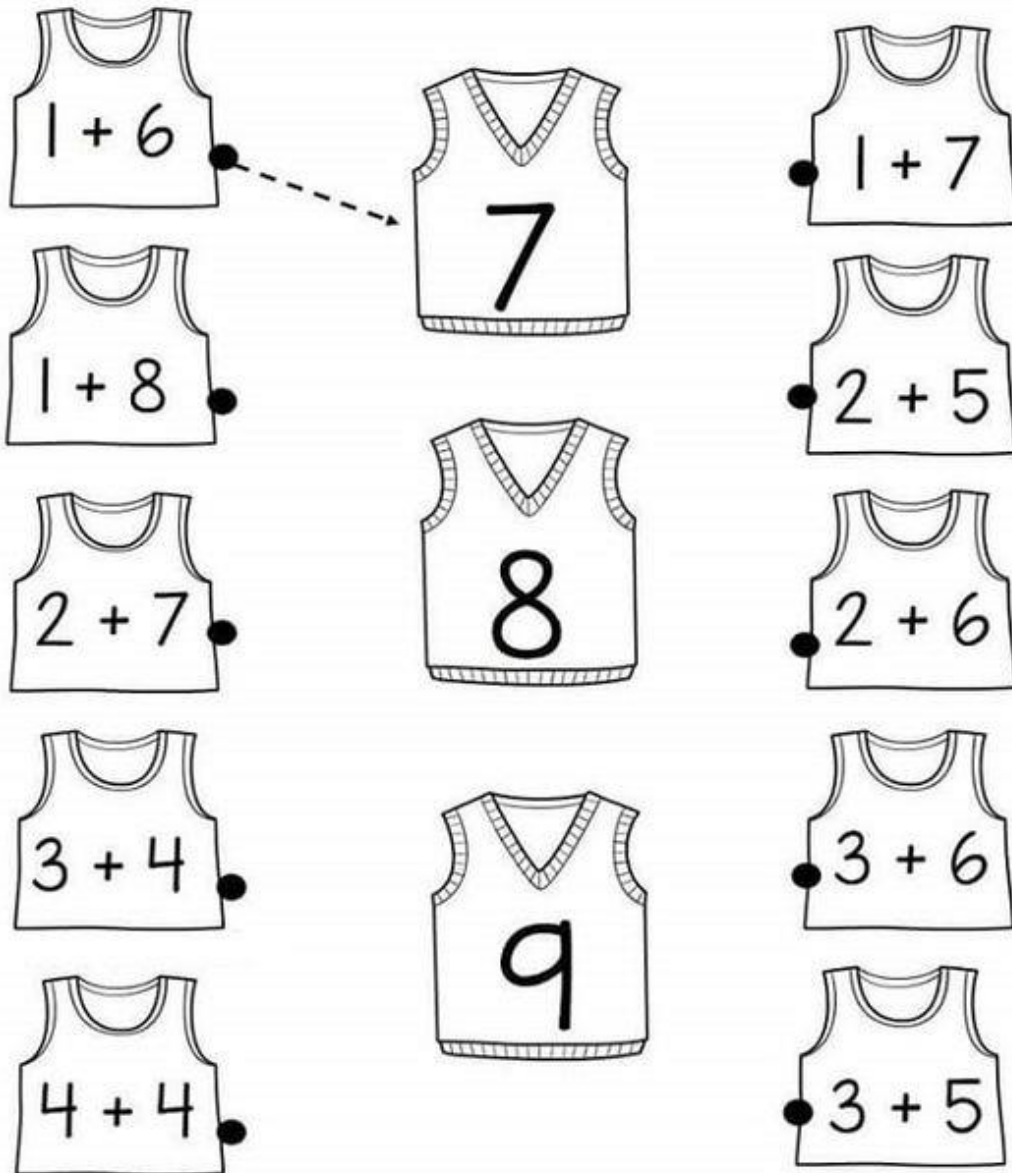
Πρόσθεσε τους αριθμούς ακολουθώντας το παράδειγμα.

Add the numbers following the example.

Ajoutez les chiffres suivant comme l'exemple.

اجمع الارقم كالمثال

اعداد را با هم جمع نماييد و مثال که در پايين داده شده دنبال نماييد



$1 + 6$		$1 + 7$
$1 + 8$	7	$2 + 5$
$2 + 7$	8	$2 + 6$
$3 + 4$	9	$3 + 6$
$4 + 4$		$3 + 5$

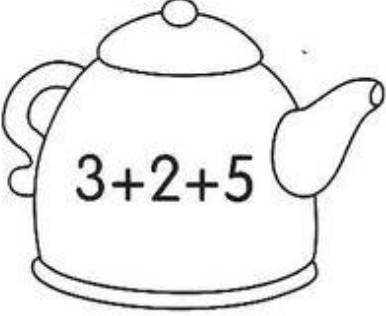





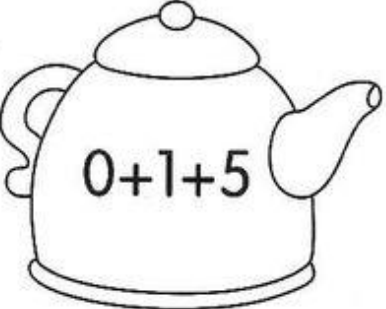

Πρόσθεσε τους αριθμούς ακολουθώντας το παράδειγμα.

Add the numbers following the example.

Ajoutez les chiffres suivant comme l'exemple.

اجمع الارقم كالمثال

اعداد را با هم جمع نماييد و مثال که در پايين داده شده دنبال نماييد

 <p>3+2+5</p>	★	★	 <p>6</p>
 <p>1+3+4</p>	★	★	 <p>10</p>
 <p>2+4+3</p>	★	★	 <p>8</p>
 <p>0+1+5</p>	★	★	 <p>9</p>

Γράψε τους αριθμούς που λείπουν.







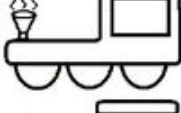



Write the missing numbers.

Écrivez les nombres manquants.

اكتب الارقام الناقصة

اعداد را در جاهای خالی بنویسید

Write each missing number.

	1									10
	11									20
	21									30
	31									40
	41									50
	51									60
	61									70
	71									80
	81									90
	91									100

www.worksheetfun.com

Copyright ©2008 worksheetfun.com. All rights reserved

Κάνε τις πράξεις.

Do the math.

Fais le calcul.

قم بالعمليات

عملیه جمع را انجام دهید

Name _____

$\begin{array}{r} \text{Tens} \quad \text{Ones} \\ 25 \\ + 20 \\ \hline \end{array}$	$\begin{array}{r} \text{Tens} \quad \text{Ones} \\ 48 \\ + 20 \\ \hline \end{array}$	$\begin{array}{r} \text{Tens} \quad \text{Ones} \\ 44 \\ + 31 \\ \hline \end{array}$	$\begin{array}{r} \text{Tens} \quad \text{Ones} \\ 45 \\ + 32 \\ \hline \end{array}$
$\begin{array}{r} \text{Tens} \quad \text{Ones} \\ 31 \\ + 15 \\ \hline \end{array}$	$\begin{array}{r} \text{Tens} \quad \text{Ones} \\ 21 \\ + 10 \\ \hline \end{array}$	$\begin{array}{r} \text{Tens} \quad \text{Ones} \\ 14 \\ + 13 \\ \hline \end{array}$	$\begin{array}{r} \text{Tens} \quad \text{Ones} \\ 37 \\ + 10 \\ \hline \end{array}$
$\begin{array}{r} \text{Tens} \quad \text{Ones} \\ 34 \\ + 15 \\ \hline \end{array}$	$\begin{array}{r} \text{Tens} \quad \text{Ones} \\ 44 \\ + 30 \\ \hline \end{array}$	$\begin{array}{r} \text{Tens} \quad \text{Ones} \\ 37 \\ + 21 \\ \hline \end{array}$	$\begin{array}{r} \text{Tens} \quad \text{Ones} \\ 34 \\ + 21 \\ \hline \end{array}$
$\begin{array}{r} \text{Tens} \quad \text{Ones} \\ 42 \\ + 30 \\ \hline \end{array}$	$\begin{array}{r} \text{Tens} \quad \text{Ones} \\ 44 \\ + 44 \\ \hline \end{array}$	$\begin{array}{r} \text{Tens} \quad \text{Ones} \\ 45 \\ + 32 \\ \hline \end{array}$	$\begin{array}{r} \text{Tens} \quad \text{Ones} \\ 35 \\ + 14 \\ \hline \end{array}$

Double Digit (11/18/2010) Printed for: TFC Addition to 50
www.TeachersFileCabinet.com ©201

Κάνε τις πράξεις.

Do the math.

Fais le calcul.

قم بالعمليات

عملیه جمع را انجام دهید

$$\begin{array}{r} + 82 \\ 11 \\ \hline \end{array}$$


$$\begin{array}{r} + 16 \\ 13 \\ \hline \end{array}$$

$$\begin{array}{r} + 20 \\ 29 \\ \hline \end{array}$$

$$\begin{array}{r} + 53 \\ 21 \\ \hline \end{array}$$

$$\begin{array}{r} + 78 \\ 21 \\ \hline \end{array}$$

$$\begin{array}{r} + 32 \\ 53 \\ \hline \end{array}$$



$$\begin{array}{r} + 23 \\ 45 \\ \hline \end{array}$$

$$\begin{array}{r} + 25 \\ 71 \\ \hline \end{array}$$

$$\begin{array}{r} + 55 \\ 24 \\ \hline \end{array}$$

$$\begin{array}{r} + 12 \\ 75 \\ \hline \end{array}$$

$$\begin{array}{r} + 30 \\ 61 \\ \hline \end{array}$$

$$\begin{array}{r} + 85 \\ 14 \\ \hline \end{array}$$

$$\begin{array}{r} + 22 \\ 45 \\ \hline \end{array}$$

$$\begin{array}{r} + 63 \\ 34 \\ \hline \end{array}$$

