

Mathematics 13-17

Γράψε τους αριθμούς που βρίσκονται πριν και μετά από τον αριθμό που βλέπεις. Write the numbers that come before and after. Ecris les numéros qui sont avant et après le numéros donnés .

اعداد یا شماره های که قبل و بعد از شماره های نوشته شده می آید بنویسید.

اكتب الارقام قبل و بعد الرقم الموجود





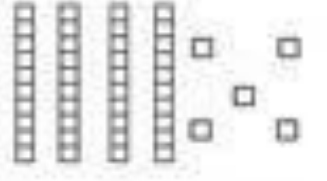
	117	
	78	
	90	
	12	
	45	
	37	
	83	
	90	
	112	
	98	
	210	
	287	

	99	
	16	
	51	
	148	
	60	
	43	
	92	
	256	
	185	
	74	
	234	
	192	

Γράψε και τις δύο μορφές των αριθμών ακολουθώντας το παράδειγμα. Write the standard and the expanded form of the number following the example. Ecris les deux formes de les numéros comme l' exemple.

دو شکل را که در داخل جدول مشاهده میکنید تعداد آن را در خانه خالی ها بنویسید مثال که در پایین داده شده دنبال کنید.

اكتب الارقام بالشكلين المختلفين كالمثال

	Standard form	Expanded form
	132	100+30+2
		
		
		
		

Γράψε αναλυτικά τους παρακάτω αριθμούς όπως έκανες προηγουμένως ακολουθώντας το παράδειγμα. Write the expanded form for each number following the example. Ecris les numéros analytiquement comme tu as fais antérieurement, en regardant l' exemple.

در خانه خالی های ذیل اعداد را اضافه کنید طوری که در سوال قبلی انجام دادید .

اكتب الارقام بالتفصيل كما كتبت من قبل كالمثال

$$423 = 400 + 20 + 3$$

$$568 = \dots + \dots + \dots$$

$$379 = \dots + \dots + \dots$$

$$495 = \dots + \dots + \dots$$

$$374 = \dots + \dots + \dots$$

$$592 = \dots + \dots + \dots$$

$$671 = \dots + \dots + \dots$$

Κάνε τις προσθέσεις. Add the numbers. Fais les ajouts.

سوال های جمع ذیل را حل نمایید.

قم بعمليات الجمع

$$\begin{array}{r} 63 \\ + 24 \\ \hline \end{array}$$

$$\begin{array}{r} 42 \\ + 50 \\ \hline \end{array}$$

$$\begin{array}{r} 15 \\ + 63 \\ \hline \end{array}$$

$$\begin{array}{r} 71 \\ + 6 \\ \hline \end{array}$$

$$\begin{array}{r} 45 \\ + 32 \\ \hline \end{array}$$

$$\begin{array}{r} 86 \\ + 12 \\ \hline \end{array}$$

$$\begin{array}{r} 16 \\ + 52 \\ \hline \end{array}$$

$$\begin{array}{r} 45 \\ + 34 \\ \hline \end{array}$$

$$\begin{array}{r} 50 \\ + 19 \\ \hline \end{array}$$

$$\begin{array}{r} 61 \\ + 17 \\ \hline \end{array}$$

$$\begin{array}{r} 42 \\ + 36 \\ \hline \end{array}$$

$$\begin{array}{r} 54 \\ + 22 \\ \hline \end{array}$$

$$\begin{array}{r} 35 \\ + 41 \\ \hline \end{array}$$

$$\begin{array}{r} 27 \\ + 31 \\ \hline \end{array}$$

$$\begin{array}{r} 30 \\ + 49 \\ \hline \end{array}$$

$$\begin{array}{r} 15 \\ + 72 \\ \hline \end{array}$$

$$\begin{array}{r} 23 \\ + 54 \\ \hline \end{array}$$

$$\begin{array}{r} 41 \\ + 18 \\ \hline \end{array}$$

$$\begin{array}{r} 20 \\ + 59 \\ \hline \end{array}$$

$$\begin{array}{r} 62 \\ + 16 \\ \hline \end{array}$$

$$\begin{array}{r} 44 \\ + 33 \\ \hline \end{array}$$

$$\begin{array}{r} 51 \\ + 26 \\ \hline \end{array}$$

$$\begin{array}{r} 36 \\ + 61 \\ \hline \end{array}$$

$$\begin{array}{r} 25 \\ + 42 \\ \hline \end{array}$$

$$\begin{array}{r} 72 \\ + 12 \\ \hline \end{array}$$

Κάνε τις προσθέσεις. Add the numbers. Fais les ajouts.

سوال های جمع ذیل را حل نمایید.

قم بعمليات الجمع

$$\begin{array}{r} 236 \\ + 260 \\ \hline \end{array}$$

$$\begin{array}{r} 151 \\ + 897 \\ \hline \end{array}$$

$$\begin{array}{r} 802 \\ + 776 \\ \hline \end{array}$$

$$\begin{array}{r} 553 \\ + 455 \\ \hline \end{array}$$

$$\begin{array}{r} 195 \\ + 666 \\ \hline \end{array}$$

$$\begin{array}{r} 501 \\ + 799 \\ \hline \end{array}$$

$$\begin{array}{r} 538 \\ + 943 \\ \hline \end{array}$$

$$\begin{array}{r} 586 \\ + 956 \\ \hline \end{array}$$

$$\begin{array}{r} 674 \\ + 662 \\ \hline \end{array}$$

$$\begin{array}{r} 632 \\ + 290 \\ \hline \end{array}$$

$$\begin{array}{r} 328 \\ + 310 \\ \hline \end{array}$$

$$\begin{array}{r} 669 \\ + 805 \\ \hline \end{array}$$

$$\begin{array}{r} 379 \\ + 233 \\ \hline \end{array}$$

$$\begin{array}{r} 379 \\ + 635 \\ \hline \end{array}$$

$$\begin{array}{r} 227 \\ + 820 \\ \hline \end{array}$$