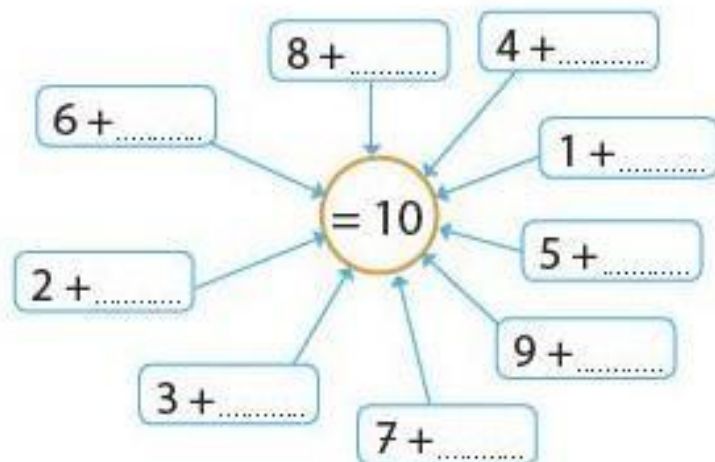
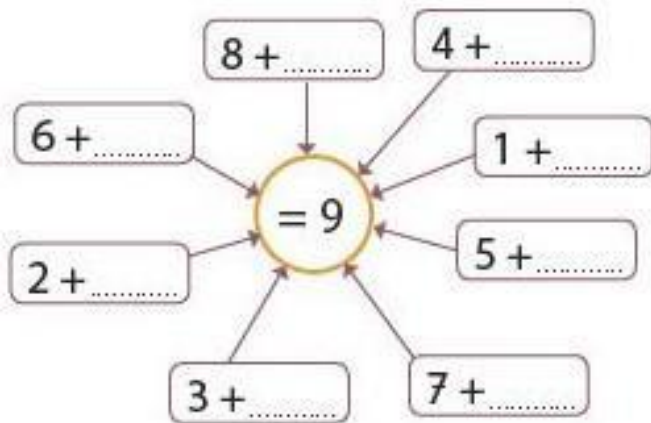
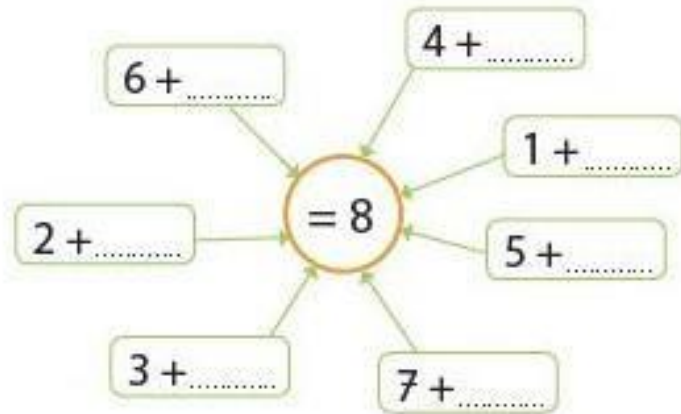
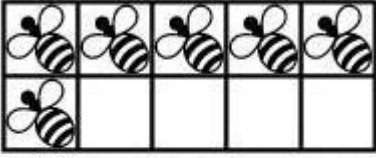
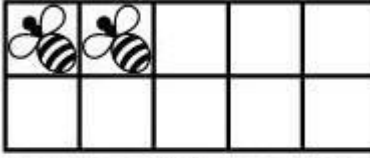

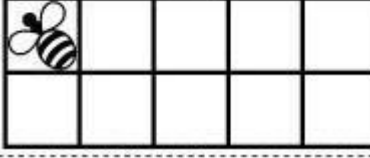

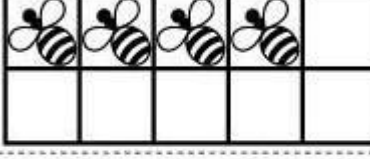




- Κάνε τις πράξεις.
- Do the math.
- Fais le calcul.
- قم بالعمليات
- جمع را انجام دهید عملیه



- Κάνε τις πράξεις.
- Do the math.
- Fais le calcul.
- قم بالعمليات
- عملیات جمع را انجام دهید

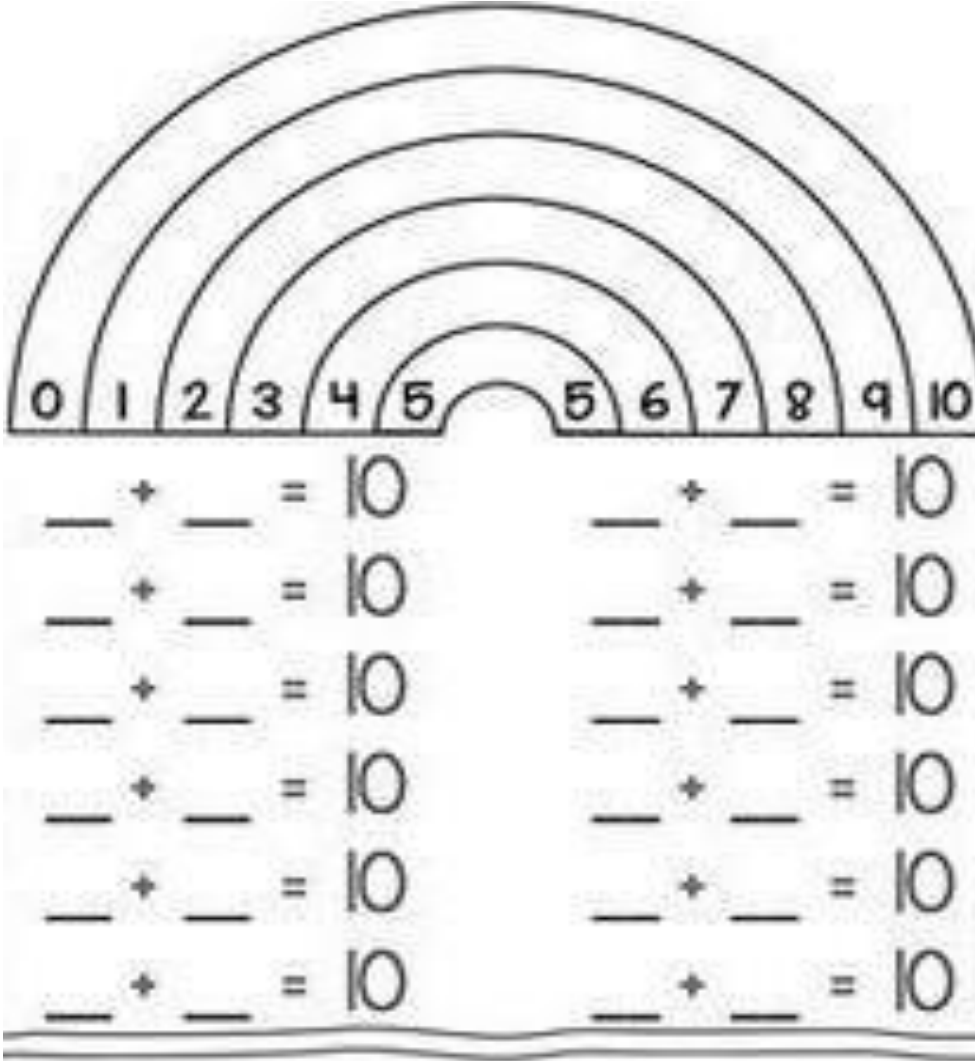
$6 + \square = 10$ 	$2 + \square = 10$ 
$8 + \square = 10$ 	$1 + \square = 10$ 
$3 + \square = 10$ 	$4 + \square = 10$ 
$5 + \square = 10$ 	$7 + \square = 10$ 

Με πόσους τρόπους μπορείς να βγάλεις το νούμερο 10;  
How many ways can you find that produce the number 10?

Combien de façons qu'il peuve produit le numéro 10?

كم عدد الطرق التي يمكن ان تنتج الرقم 10؟

از چه طریق میتوان به 10 رسید.



0 1 2 3 4 5 5 6 7 8 9 10

— + — = 10

— + — = 10

— + — = 10

— + — = 10

— + — = 10

— + — = 10

— + — = 10

— + — = 10

Λύσε το σταυρόλεξο.

Solve the crossword puzzle.

Résoudre les mots-croisés.

حل لغز الكلمات المتقاطعة.

جدول را کامل کنید.

3 + 2 =						+ 4 = 8			
				+				+	
				1				5	6
				=				=	+
					+		=		2
3									=
+					+				
2						+		=	
=					=		+		
	+		= 7			+		= 7	
				+		=		+	
				6 +	= 9			4	
				=				=	
4 + = 8						+ 3 =			
				+				+	
				2				5	
				=				=	
					+		=		



Κάνω τις πράξεις με 4 διαφορετικούς τρόπους.

Complete the operations in 4 different ways.

Faire les opérations de 4 manières différentes.

قم بالعمليات بأربع طرق مختلفة.

عملیات را به 4 روش مختلف انجام دهید.

12			
8		4	
<input type="text"/>	+	<input type="text"/>	= <input type="text"/>
<input type="text"/>	+	<input type="text"/>	= <input type="text"/>
<input type="text"/>	-	<input type="text"/>	= <input type="text"/>
<input type="text"/>	-	<input type="text"/>	= <input type="text"/>

14			
9		5	
<input type="text"/>	+	<input type="text"/>	= <input type="text"/>
<input type="text"/>	+	<input type="text"/>	= <input type="text"/>
<input type="text"/>	-	<input type="text"/>	= <input type="text"/>
<input type="text"/>	-	<input type="text"/>	= <input type="text"/>

13			
7		6	
<input type="text"/>	+	<input type="text"/>	= <input type="text"/>
<input type="text"/>	+	<input type="text"/>	= <input type="text"/>
<input type="text"/>	-	<input type="text"/>	= <input type="text"/>
<input type="text"/>	-	<input type="text"/>	= <input type="text"/>

15			
6		9	
<input type="text"/>	+	<input type="text"/>	= <input type="text"/>
<input type="text"/>	+	<input type="text"/>	= <input type="text"/>
<input type="text"/>	-	<input type="text"/>	= <input type="text"/>
<input type="text"/>	-	<input type="text"/>	= <input type="text"/>