

### 9-12 B

Λύσε το σταυρόλεξο.

Solve the crossword puzzle.

Résoudre les mots-croisés.

أنا حل لغز الكلمات المتقاطعة.

جدول را حل کنید.

2	X	4	=																	
		X		X																
				9	X	1	=	9												
		=		=		X		X												
6	x	12	=	72																
X																				
	x	5	=																	
=																				
36	=	9	x																	
		X		X																
3	x	3	=	9																
X		=		=																
7				54																
=																				
		11	x	3	=															
				X																
7																				
X		X																		
5	x	6	=																	
=		=																		
		48	=	4	X															

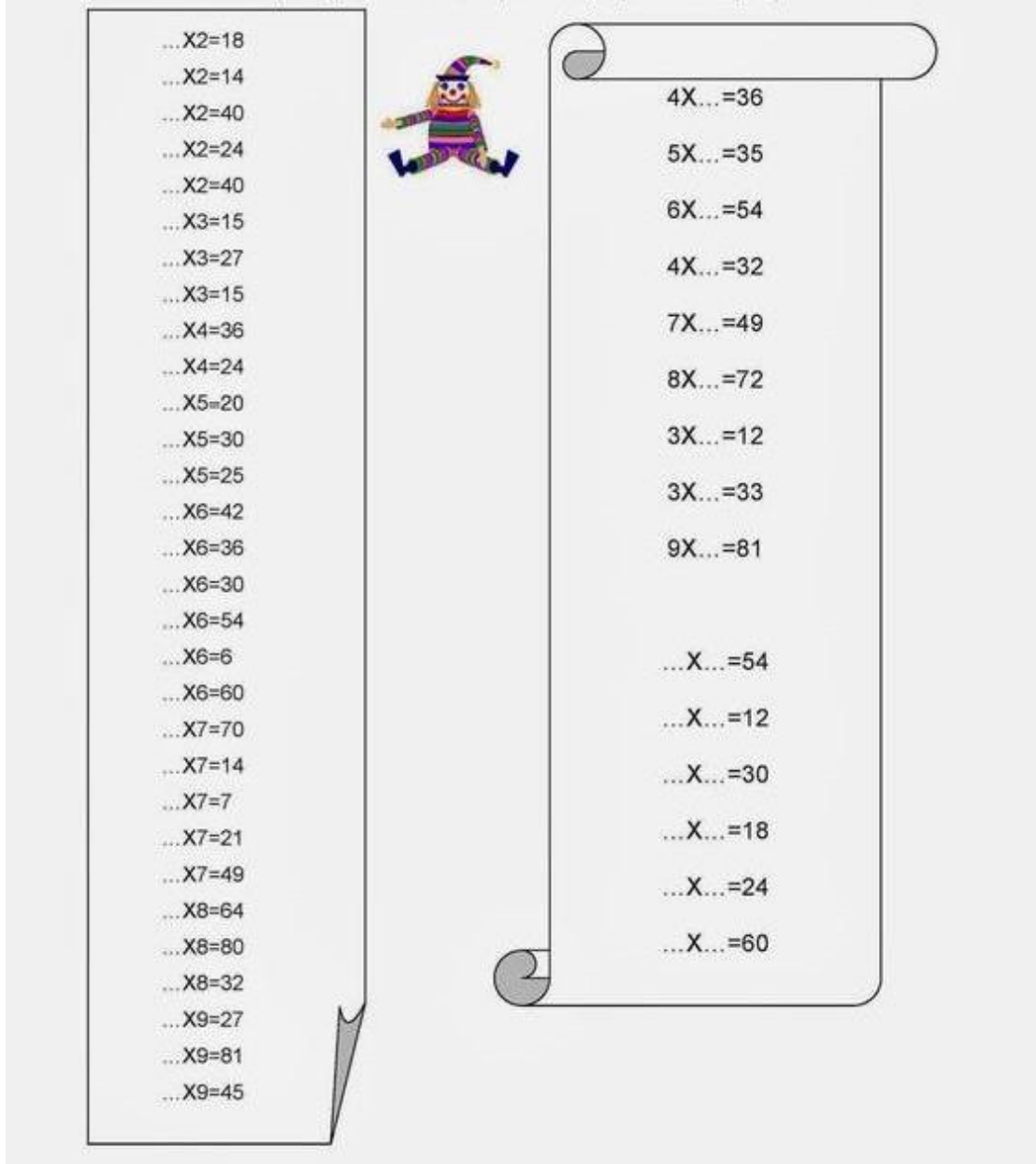
Συμπλήρωσε τον αριθμό που λείπει.

Fill in the missing number.

Remplissez le numéro manquant

جد الارقام المفقودة

در جاهای اعداد مناسب را بنویسید.



...X2=18  
...X2=14  
...X2=40  
...X2=24  
...X2=40  
...X3=15  
...X3=27  
...X3=15  
...X4=36  
...X4=24  
...X5=20  
...X5=30  
...X5=25  
...X6=42  
...X6=36  
...X6=30  
...X6=54  
...X6=6  
...X6=60  
...X7=70  
...X7=14  
...X7=7  
...X7=21  
...X7=49  
...X8=64  
...X6=80  
...X8=32  
...X9=27  
...X9=81  
...X9=45

4X...=36  
5X...=35  
6X...=54  
4X...=32  
7X...=49  
8X...=72  
3X...=12  
3X...=33  
9X...=81  
  
...X...=54  
...X...=12  
...X...=30  
...X...=18  
...X...=24  
...X...=60

Συμπλήρωσε τα κενά με τους αριθμούς που λείπουν


Fill in the blanks with the missing numbers

Remplissez les blancs avec les numéros manquants

در جا های خالی اعداد مناسب بگذارید.

املأ الفراغات بالأرقام الناقص

$\square \times \square = 24$	$\square \times \square = 64$
$\square \times \square = 42$	$\square \times \square = 36$
$\square \times \square = 12$	$\square \times \square = 15$
$\square \times \square = 16$	$\square \times \square = 9$
$\square \times \square = 21$	$\square \times \square = 30$
$\square \times \square = 14$	$\square \times \square = 72$
$\square \times \square = 40$	$\square \times \square = 80$
$\square \times \square = 32$	$\square \times \square = 56$



Συμπλήρωσε τα κενά με τους αριθμούς που λείπουν.

Fill in the missing numbers.

Remplissez les numéros manquant .

در جاهای خالی اعداد مناسب بگذارید.

املاً الفراغات الآتية

3 x  - 27      5 x  - 45      2 x  - 16      4 x  - 20

7 x  - 49      8 x  - 64      7 x  - 77

9 x  - 73      3 x  - 36      7 x  - 42      5 x  - 25

6 x  - 30      2 x  - 22      8 x  - 81

9 x  - 36      8 x  - 32      7 x  - 35      7 x  - 14

4 x  - 48      2 x  - 30      4 x  - 16

3 x  - 12      3 x  - 33      8 x  - 88      5 x  - 15

8 x  - 40      8 x  - 56      2 x  - 12

2 x  - 10      3 x  - 45      7 x  - 21      4 x  - 24

5 x  - 60      8 x  - 24      5 x  - 55

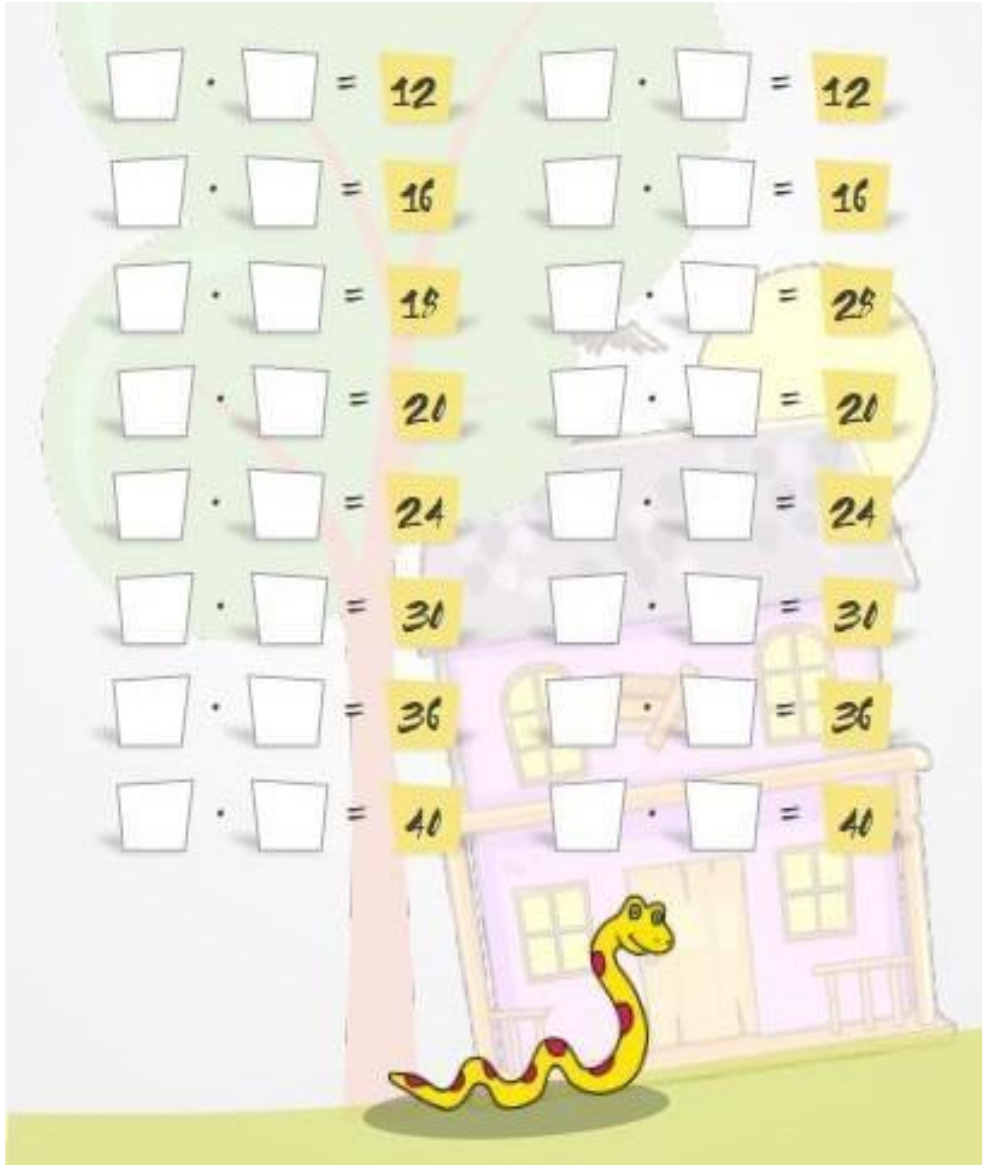
Κάνε τους πολλαπλασιασμούς και βρες το ίδιο αποτέλεσμα.

Do the multiplications and find the same result.

Faites la multiplication et trouvez la même résultat.

أجب عن عمليات الضرب التالية

ضرب هارا انجام دهید و نتیجه مشابه را پیدا کنید.



<input type="text"/>	•	<input type="text"/>	=	12	<input type="text"/>	•	<input type="text"/>	=	12
<input type="text"/>	•	<input type="text"/>	=	16	<input type="text"/>	•	<input type="text"/>	=	16
<input type="text"/>	•	<input type="text"/>	=	18	<input type="text"/>	•	<input type="text"/>	=	28
<input type="text"/>	•	<input type="text"/>	=	20	<input type="text"/>	•	<input type="text"/>	=	20
<input type="text"/>	•	<input type="text"/>	=	24	<input type="text"/>	•	<input type="text"/>	=	24
<input type="text"/>	•	<input type="text"/>	=	30	<input type="text"/>	•	<input type="text"/>	=	30
<input type="text"/>	•	<input type="text"/>	=	36	<input type="text"/>	•	<input type="text"/>	=	36
<input type="text"/>	•	<input type="text"/>	=	40	<input type="text"/>	•	<input type="text"/>	=	40