

A2. 9-12

Mathematics

Γράψε τους αριθμούς που λείπουν.

Write the missing numbers.

Écrivez les nombres manquants.

اكتب الارقام الناقصة

اعداد را در جاهای خالی بنویسید

1	2	3	4	5	6	7	8	9	10
11	12	13	14	15	16	17	18	19	20
21	22	23	24	25	26	27	28	29	30
31	32	33	34	35	36	37	38	39	40
41	42	43	44	45	46	47	48	49	50
51	52	53	54	55	56	57	58	59	60
61	62	63	64	65	66	67	68	69	70
71	72	73	74	75	76	77	78	79	80
81	82	83	84	85	86	87	88	89	90
91	92	93	94	95	96	97	98	99	100

Γράψε τους αριθμούς που λείπουν.

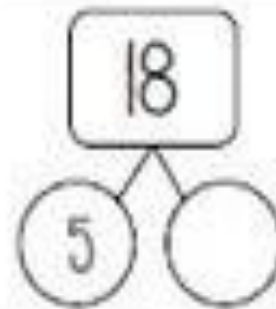
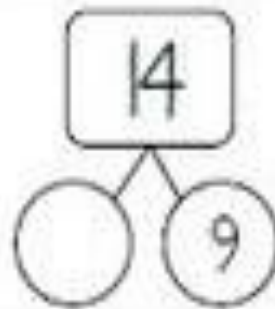
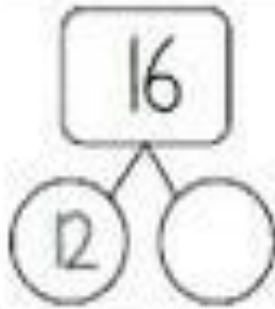
Write the missing numbers.

Écrivez les nombres manquants.

اكتب الارقام الناقصة

اعداد را در جاهای خالی بنویسید

Whole 13		Whole 18		Whole 16	
Part 7	Part	Part	Part 7	Part 7	Part



$\underline{\quad} + 7 = 15$	$\underline{\quad} + 4 = 17$	$\underline{\quad} + 2 = 18$
$2 + \underline{\quad} = 16$	$1 + \underline{\quad} = 13$	$7 + \underline{\quad} = 14$
$\underline{\quad} + 2 = 14$	$\underline{\quad} + 6 = 19$	$\underline{\quad} + 3 = 15$
$1 + \underline{\quad} = 19$	$8 + \underline{\quad} = 16$	$12 + \underline{\quad} = 19$
$\underline{\quad} + 9 = 13$	$\underline{\quad} + 6 = 15$	$\underline{\quad} + 5 = 20$

Γράψε τους αριθμούς που λείπουν.

Write the missing numbers.

Écrivez les nombres manquants.

اكتب الأرقام الناقصة

اعداد را در جاهای خالی بنویسید

A

$$7 + _ = 11$$

11	
7	

B

$$_ + 5 = 9$$

9	
	5

C

$$12 - _ = 6$$

12	
	6

D

$$8 - _ = 1$$

8	
	1

Γράψε τους αριθμούς που λείπουν.

Write the missing numbers.

Écrivez les nombres manquants.

اكتب الارقام الناقصة

اعداد را در جاهای خالی بنویسید

$5 + \square = 16$	$\square + 9 = 14$
$\square + 8 = 19$	$8 + \square = 13$
$4 + \square = 20$	$\square + 6 = 18$
$\square + 6 = 19$	$0 + \square = 16$
$7 + \square = 17$	$\square + 1 = 24$
$\square + 4 = 12$	$5 + \square = 12$
$9 + \square = 18$	$\square + 4 = 15$
$\square + 5 = 19$	$9 + \square = 11$

Γράψε τους αριθμούς που λείπουν.

Write the missing numbers.

Écrivez les nombres manquants.

اكتب الارقام الناقصة

اعداد را در جاهای خالی بنویسید

1)

2	4	6	8	10					
---	---	---	---	----	--	--	--	--	--

2)

17	19	21	23	25					
----	----	----	----	----	--	--	--	--	--

3)

48	44	40	36	32					
----	----	----	----	----	--	--	--	--	--

4)

10	15	20	25	30					
----	----	----	----	----	--	--	--	--	--

5)

27	25	23	21	19					
----	----	----	----	----	--	--	--	--	--

6)

6	12	18	24	30					
---	----	----	----	----	--	--	--	--	--

7)

1	3	5	7	9					
---	---	---	---	---	--	--	--	--	--

8)

40	38	36	34	32					
----	----	----	----	----	--	--	--	--	--

9)

12	15	18	21	24					
----	----	----	----	----	--	--	--	--	--

10)

32	30	28	26	24					
----	----	----	----	----	--	--	--	--	--