















Κάνε τις πράξεις.

Do the math.

Fais le calcul.

قم بالعمليات

عملیه های ذیل را انجام دهید.

 +  = <input type="text" value="2"/> + <input type="text" value="3"/> = <input type="text" value="5"/>
 +  = <input type="text"/> + <input type="text"/> = <input type="text"/>
 +  = <input type="text"/> + <input type="text"/> = <input type="text"/>
 +  = <input type="text"/> + <input type="text"/> = <input type="text"/>
 +  = <input type="text"/> + <input type="text"/> = <input type="text"/>
 +  = <input type="text"/> + <input type="text"/> = <input type="text"/>
 +  = <input type="text"/> + <input type="text"/> = <input type="text"/>

Μέτρησε τα αντικείμενα και αντιστοίχισε με τον σωστό αριθμό.

Draw a line between each number to the matching set of objects.

Tracez une ligne entre chaque nombre et ensemble correspondant.

عد الأشكال ثم وصلهم بالرقم الصحيح

شکل های زیر را حساب و با شماره مناسب وصل کنید



1



2



3




4



5



6



8



9


Μέτρησε τα αντικείμενα και αντιστοίχισε με τον σωστό αριθμό.

Draw a line between each number to the matching set of objects.


Tracez une ligne entre chaque nombre et ensemble correspondant.

عد الأشكال ثم وصلهم بالرقم الصحيح

شکل های زیر را حساب و با شماره مناسب وصل کنید




5




3



1



2



4






Ζωγράψτε όσες εικόνες αντιστοιχούν στον αριθμό που βρίσκεται δίπλα

Paint the pictures that correspond to the number next to them

Peignez les images qui correspondent au numéro à côté d'eux

ارسم الصور التي تتوافق مع الرقم المجاور لها

شکل های زیر را به مقدار عدد که در سمت چپ تصویر است رنگه کنید

2	
5	
4	
3	
1	










Κάνε τις πράξεις.

Do the math.

Fais le calcul.

قم بالعمليات

عملیه های ذیل را انجام دهید.

 $2 + 1 = \underline{\quad}$	 $1 + 6 = \underline{\quad}$	 $3 + 2 = \underline{\quad}$
 $5 + 1 = \underline{\quad}$	 $2 + 2 = \underline{\quad}$	 $1 + 3 = \underline{\quad}$
 $3 + 4 = \underline{\quad}$	 $1 + 1 = \underline{\quad}$	 $3 + 3 = \underline{\quad}$