

Mathematics_9-12

Γράψε τους αριθμούς που λείπουν.

Write the missing numbers.

Écrivez les nombres manquants.

اكتب الارقام الناقصة

اعداد مناسب را در جاهای خالی بنویسید

| | | | | | | | | |
|---|---|---|---|---|---|---|---|---|
| 1 | + | 2 | = | | + | | = | 8 |
| + | | + | | - | | + | | - |
| | - | 6 | = | 2 | + | | = | 2 |
| = | | = | | = | | = | | = |
| 9 | - | | = | 1 | + | | = | |
| - | | - | | + | | + | | - |
| 3 | + | | = | | - | 3 | = | 5 |
| = | | = | | = | | = | | = |
| | + | 3 | = | | - | 8 | = | |

Γράψε τους αριθμούς που λείπουν.

Write the missing numbers.

Écrivez les nombres manquants.

اكتب الارقام الناقصة

اعداد مناسب را در جاهای خالی بنویسید

| | | | | | | | | | | | | | | | | |
|---------|--|---|---|-----|-----|--|-----|---|---|---------|-----|-----|---|--|--|--|
| 3 + 2 = | | | | | | | | | | + 4 = 8 | | | | | | |
| | | | | | + | | | | | | + | | | | | |
| | | | | | 1 | | | | | | 5 | | | | | |
| | | | | | = | | | | | | = | | | | | |
| 3 | | | + | | | | | = | | | | | 6 | | | |
| + | | | | | + | | | | | + | | 2 | | | | |
| 2 | | | | | | | | = | | | | | = | | | |
| = | | | | | = | | | | | + | | | | | | |
| | | + | | | = 7 | | | | | + | | = 7 | | | | |
| | | + | | | | | = | | | + | | | | | | |
| | | 6 | | | + | | = 9 | | | | | 4 | | | | |
| | | = | | | | | | | | = | | | | | | |
| 4 | | + | | = 8 | | | | | + | | 3 = | | | | | |
| | | + | | | | | | | + | | | | | | | |
| | | 2 | | | | | | | 5 | | | | | | | |
| | | = | | | | | | | = | | | | | | | |
| | | + | | = | | | | | | | | | | | | |



Γράψε τους αριθμούς που λείπουν.


Write the missing numbers.

Écrivez les nombres manquants.

اكتب الارقام الناقصة

در جاهای خالی بنویسید مناسب را اعداد

| | | | | | | | | | | |
|---|---|---|---|---|---|---|---|---|---|---|
| 7 | - | | = | 2 | | 2 | + | | = | 8 |
| | | + | | | | | | - | | |
| | | 4 | | | | | | 3 | | |
| | | = | | | | | | = | | |
| | | - | | = | 3 | | + | 1 | = | |
| | | + | | | | | | - | | |
| | | 2 | | | | | | = | | |
| | | = | | | | | | = | | |
| | | - | | = | 1 | | | | | |
| | | | | - | | | | | | |
| | + | 3 | = | 6 | | | | | | |
| | + | | | = | | | | | | |
| | 6 | | | | | + | 7 | = | | |
| | = | | | | | | | | | |
| | - | 8 | = | | | | | - | | |
| | | | | | | | | 4 | | |
| | | | | | | | | = | | |
| | | | | | | 5 | - | | = | |




Γράψε τους αριθμούς που λείπουν.

Write the missing numbers.

Écrivez les nombres manquants.

اكتب الارقام الناقصة

اعداد مناسب را در جاهای خالی بنویسید



4 - 2 =

+ -

= 1 =

- 7 = 2 + 8 =

+ + 6 = -

= - = 5

- + =

1 = 3 - =

= +

8 9 - = 5 =

- + 5 =

= =

3 + 3 = - 4 =


Γράψε τους αριθμούς που λείπουν.

Write the missing numbers.

Écrivez les nombres manquants.

اكتب الارقام الناقصة

اعداد مناسب را در جاهای خالی بنویسید



| | | | | |
|---|---|---|---|--|
| 7 | - | 3 | = | |
| | | | + | |
| | | | 5 | |
| | | | = | |

| | | | | |
|--|---|---|---|--|
| | + | 2 | = | |
| | | | - | |
| | | | 4 | |
| | | | = | |

| | | | | |
|--|---|---|---|--|
| | + | 1 | = | |
| | | | - | |
| | | | 2 | |
| | | | = | |

| | | | | | | | |
|---|---|--|---|---|---|---|--|
| 6 | + | | = | | | | |
| | | | - | | | | |
| | | | + | 4 | = | | |
| | | | = | | | - | |
| | | | 5 | | | 3 | |
| | | | | | | = | |

| | | | | |
|--|---|---|---|--|
| | - | 2 | = | |
| | | | + | |
| | | | 3 | |
| | | | = | |

| | | | | | | | |
|--|---|---|---|---|---|---|---|
| | + | 4 | = | | | | |
| | | | + | | | | |
| | | | - | 5 | = | | |
| | | | - | | = | | |
| | | | 3 | + | | = | 5 |
| | | | = | | | | |

| | | | | | | |
|---|---|--|---|---|---|--|
| 2 | + | | = | | | |
| | | | - | | | |
| | | | 3 | | | |
| | | | = | | | |
| | | | + | 4 | = | |