

MATH_9-12 B

Κάνε τις προσθέσεις με κρατούμενο

Add the numbers with regrouping.

Ajoutez les nombres avec regroupement.

سوال های ذیل را جمع نمایید و استفاده کنید از مثال که داده شده در ذیل

اجمع الأرقام جمع زیادة (إضافة) كما هو في المِثال

25	35	06	21
32	23	42	13
<u>+29</u>	<u>+27</u>	<u>+33</u>	<u>+16</u>
03	27	51	43
32	23	10	26
<u>+49</u>	<u>+43</u>	<u>+29</u>	<u>+08</u>
16	05	23	28
36	35	32	35
<u>+23</u>	<u>+24</u>	<u>+26</u>	<u>+23</u>

Κάντε τις αφαιρέσεις με κρατούμενο
Complete the subtractions with regrouping
Compléter la soustraction avec le regroupement
أكمل عمليات الطرح مع إعادة التجميع
سوال های منفی را حل کنید.

$$\begin{array}{r} 72 \\ -24 \\ \hline \end{array}$$

$$\begin{array}{r} 35 \\ -16 \\ \hline \end{array}$$

$$\begin{array}{r} 91 \\ -48 \\ \hline \end{array}$$

$$\begin{array}{r} 48 \\ -29 \\ \hline \end{array}$$

$$\begin{array}{r} 56 \\ -28 \\ \hline \end{array}$$

$$\begin{array}{r} 80 \\ -45 \\ \hline \end{array}$$

$$\begin{array}{r} 66 \\ -58 \\ \hline \end{array}$$

$$\begin{array}{r} 94 \\ -27 \\ \hline \end{array}$$

$$\begin{array}{r} 28 \\ -19 \\ \hline \end{array}$$

$$\begin{array}{r} 74 \\ -36 \\ \hline \end{array}$$

$$\begin{array}{r} 33 \\ -15 \\ \hline \end{array}$$

$$\begin{array}{r} 67 \\ -28 \\ \hline \end{array}$$

$$\begin{array}{r} 44 \\ -15 \\ \hline \end{array}$$

$$\begin{array}{r} 81 \\ -37 \\ \hline \end{array}$$

$$\begin{array}{r} 65 \\ -28 \\ \hline \end{array}$$

$$\begin{array}{r} 84 \\ -39 \\ \hline \end{array}$$

Κάνω τους πολλαπλασιασμούς
I do the multiplications
ساوي عمليات الضرب
من عمليه ضرب را انجام ميتم
Je fais les multiplications

$$\begin{array}{r} 1) \quad 136 \\ \times \quad 2 \\ \hline \\ \hline \end{array}$$

$$\begin{array}{r} 2) \quad 205 \\ \times \quad 4 \\ \hline \\ \hline \end{array}$$

$$\begin{array}{r} 3) \quad 173 \\ \times \quad 3 \\ \hline \\ \hline \end{array}$$

$$\begin{array}{r} 4) \quad 613 \\ \times \quad 4 \\ \hline \\ \hline \end{array}$$

$$\begin{array}{r} 5) \quad 524 \\ \times \quad 2 \\ \hline \\ \hline \end{array}$$

$$\begin{array}{r} 6) \quad 813 \\ \times \quad 3 \\ \hline \\ \hline \end{array}$$

$$\begin{array}{r} 7) \quad 386 \\ \times \quad 5 \\ \hline \\ \hline \end{array}$$

$$\begin{array}{r} 8) \quad 483 \\ \times \quad 3 \\ \hline \\ \hline \end{array}$$

$$\begin{array}{r} 9) \quad 695 \\ \times \quad 2 \\ \hline \\ \hline \end{array}$$

$$\begin{array}{r} 10) \quad 481 \\ \times \quad 4 \\ \hline \\ \hline \end{array}$$

$$\begin{array}{r} 11) \quad 276 \\ \times \quad 5 \\ \hline \\ \hline \end{array}$$

$$\begin{array}{r} 12) \quad 797 \\ \times \quad 3 \\ \hline \\ \hline \end{array}$$

$$\begin{array}{r} 13) \quad 804 \\ \times \quad 5 \\ \hline \\ \hline \end{array}$$

$$\begin{array}{r} 14) \quad 489 \\ \times \quad 4 \\ \hline \\ \hline \end{array}$$

$$\begin{array}{r} 15) \quad 625 \\ \times \quad 3 \\ \hline \\ \hline \end{array}$$

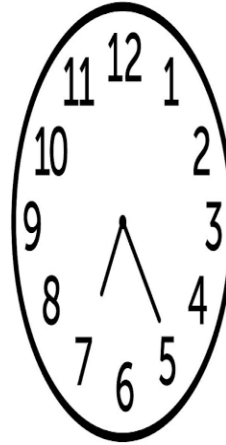


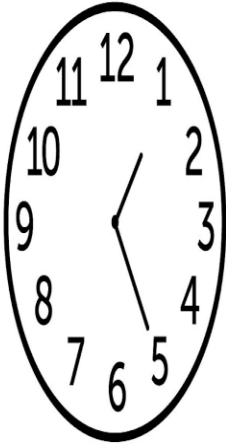
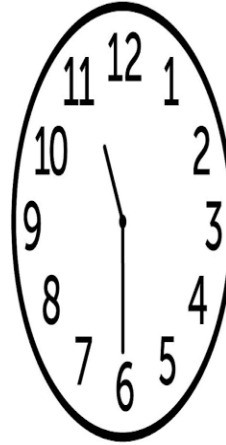



Γράψτε την ώρα κάτω από κάθε ρολόι:

Write the time bellow each clock:

Écrivez l'heure sous chaque horloge:

اكتب التوقيت تحت كل ساعة

وقت را در پایین هر ساعت بنویسید.



Κάντε τις παρακάτω διαιρέσεις
Complete the divisions bellow
Faites les divisions suivantes
قم بعمليات التقسيم التالية.
سوالات تقسيم زیر را انجام دهید.

$15 \div 5 =$

$48 \div 6 =$

$80 \div 10 =$

$50 \div 10 =$

$12 \div 6 =$

$42 \div 6 =$

$40 \div 4 =$

$24 \div 12 =$

$12 \div 6 =$

$10 \div 2 =$

$84 \div 7 =$

$11 \div 11 =$

$27 \div 3 =$

$44 \div 11 =$

$36 \div 6 =$

$40 \div 4 =$

$2 \div 2 =$

$35 \div 5 =$

$100 \div 10 =$

$36 \div 12 =$